

平成 23 年度（2011 年度）第 5 学年 4 月編入学選抜検査

2011 年度五年级四月份插班入学考试

外国語作文（中国語）  
外语作文（中文）

平成 23 年（2011 年）2 月 3 日（木）実施  
2011 年 2 月 3 日（星期四）实施

注意事项

- 1 在听到考试开始的口令之前，不得打开试题卷。
- 2 试题卷的空白处可以当草稿使用。但是考生写在试题卷上的内容不作为评分对象。
- 3 答卷只有一张。答案请全部用中文写在答卷上。
- 4 外语作文的考试时间为 45 分钟。
- 5 禁止发出声音阅读。
- 6 试题卷上请填写准考证号码和姓名，答卷上请填写准考证号码。
- 7 监考人员将拒绝回答有关考题内容的提问。
- 8 考生不得将试题卷带出考场。请将试题卷和答卷一起上交。

受検番号  
准考证号码

氏名  
姓名

東京学芸大学附属国際中等教育学校

TOKYO GAKUGEI UNIVERSITY INTERNATIONAL SECONDARY SCHOOL

请阅读下列文章后回答问题。

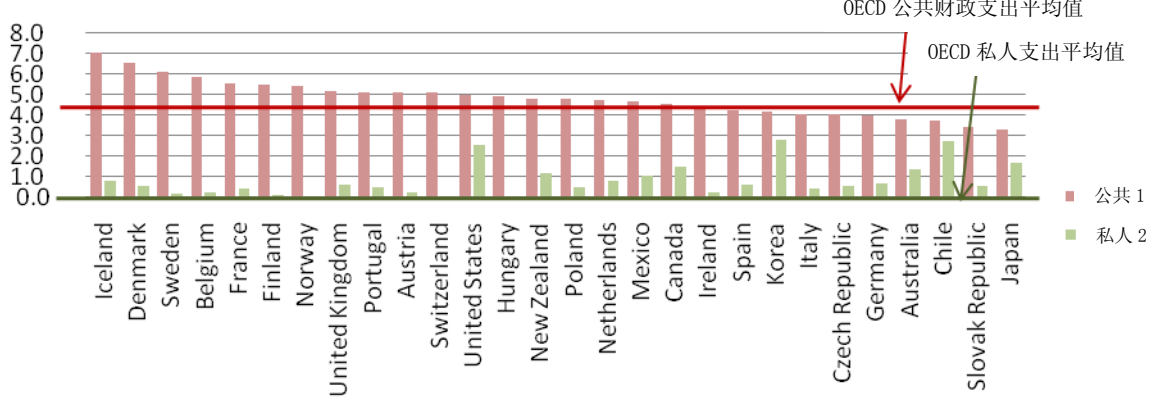
经济合作与发展组织（OECD）的报告指出，在 OECD 的 28 个会员国中，2007 年教育费的支出占国内生产总值（GDP）之比例，日本再次成为最少的国家。

2007 年该数值为 3.3%，日本以此比例创下最低值是继 2003 年、2005 年以来第三次。根据 OECD 的年度报告，日本在过去 2004 年、2006 年统计所得的数值也曾名列倒数第二。在最新排行榜上，OECD 的 32 个会员国中，可以比较的对象国家共有 28 个国家。

（摘自于日本时代杂志 2010 年 9 月 9 日，并加以润饰修正）

表一 公共财政对于各教育机构的支出占 GDP 比例（所有教育阶段）（2007 年）

GDP 比例



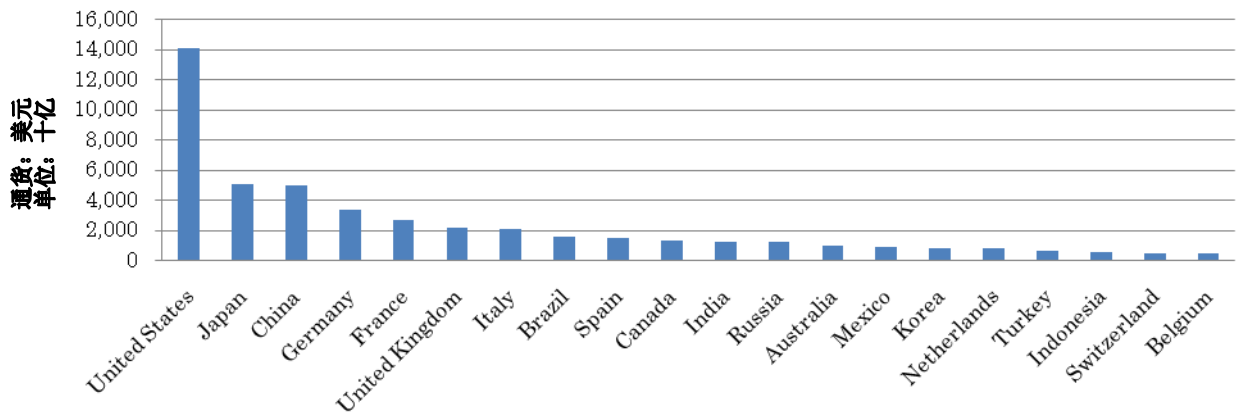
1. 包含公共财政支付各教育机构用以提供各家庭之援助资金，以及国际财源对各教育机构之直接支出。
2. 公共财政提供给各教育机构援助资金的纯金额。

(摘自 OECD 《2010 教育概览》)

国名 (左から)

- 冰岛
- 丹麦
- 瑞典
- 比利时
- 法国
- 芬兰
- 挪威
- 英国
- 葡萄牙
- 奥地利
- 瑞士
- 美国
- 匈牙利
- 新西兰
- 波兰
- 荷兰
- 墨西哥
- 加拿大
- 爱尔兰
- 西班牙
- 韩国
- 意大利
- 捷克
- 德国
- 澳大利亚
- 智利
- 斯洛伐克
- 日本

表二 位居 GDP 排行榜前 20 名国家 (2009 年)

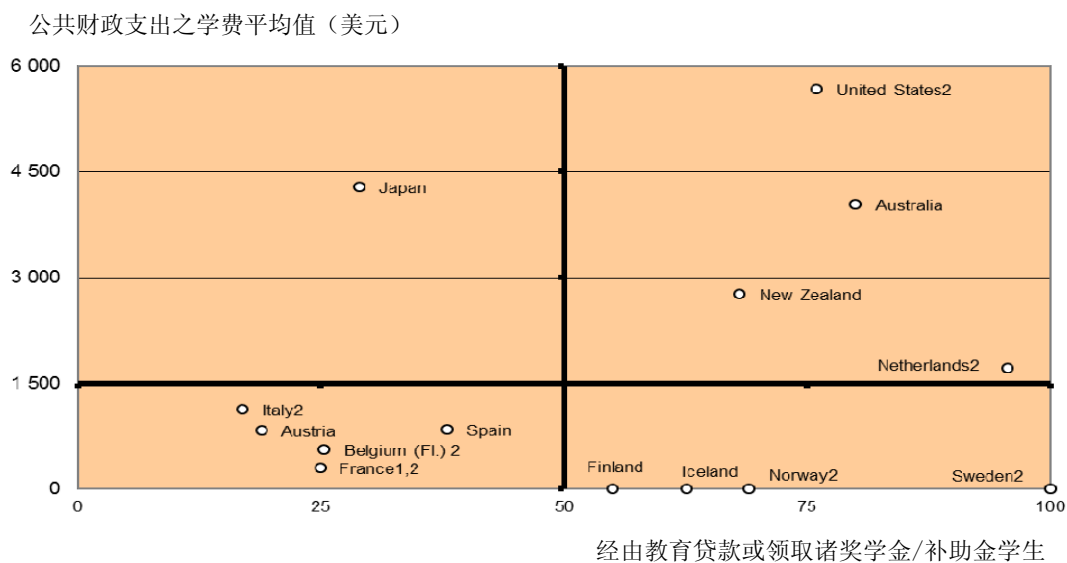


(摘自国际货币基金组织 (IMF) 《世界经济展望数据库》, 2010 年 10 月)

国名 (左から)

- 美国
- 日本
- 中国
- 德国
- 法国
- 英国
- 意大利
- 巴西
- 西班牙
- 加拿大
- 印度
- 俄国
- 澳大利亚
- 墨西哥
- 韩国
- 荷兰
- 土耳其
- 印尼
- 瑞士
- 比利时

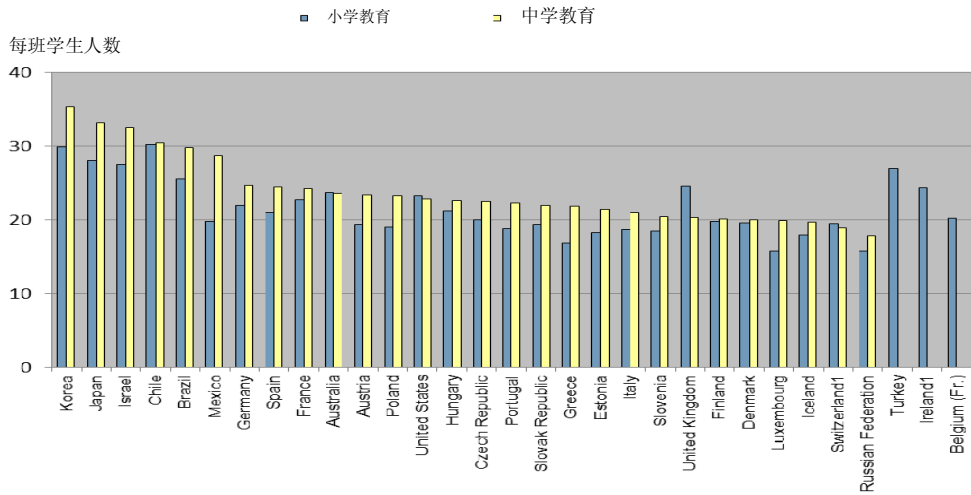
表三 高等教育阶段，公共财政支出的学费平均值与经由教育贷款或领取诸奖学金/补助金学生的比例关系图（2006-2007 学年度）



国名 (上から)

- 美国
- 日本
- 澳大利亚
- 新西兰
- 荷兰
- 意大利
- 奥地利
- 西班牙
- 比利时 (荷语区)
- 法国
- 芬兰
- 冰岛
- 挪威
- 瑞典

表四 各教育机构每班平均人数，依教育阶段分别表示（2008年）

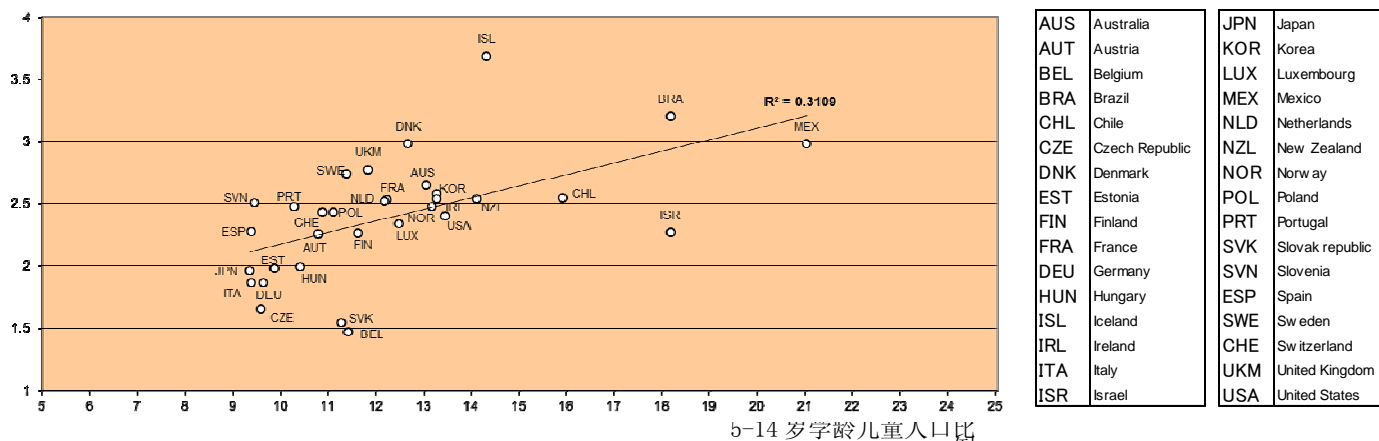


国名 (左から)

- 韩国
- 日本
- 以色列
- 智利
- 巴西
- 墨西哥
- 德国
- 西班牙
- 法国
- 澳大利亚
- 奥地利
- 波兰
- 美国
- 匈牙利
- 捷克
- 葡萄牙
- 斯洛伐克
- 希腊
- 爱沙尼亚
- 意大利
- 斯洛文尼亚
- 英国
- 芬兰
- 丹麦
- 卢森堡
- 冰岛
- 瑞士
- 俄罗斯联邦
- 土耳其
- 爱尔兰
- 比利时 (法语区)

表五 中小学教育支出占 GDP 比例与 5-14 岁学龄儿童人口比例关系图（2007 年）

中小学教育支出占 GDP 比例



(摘自 OECD 《2010 教育概览》)

国名

AUS	澳大利亚		JPN	日本
AUT	奥地利		KOR	韩国
BEL	比利时		LUX	卢森堡
BRA	巴西		MEX	墨西哥
CHL	智利		NLD	荷兰
CZE	捷克		NZL	新西兰
DNK	丹麦		NOR	挪威
EST	爱沙尼亚		POL	波兰
FIN	芬兰		PRT	葡萄牙
FRA	法国		SVK	斯洛伐克
DEU	德国		SVN	斯洛文尼亚
HUN	匈牙利		ESP	西班牙
ISL	冰岛		SWE	瑞典
IRL	爱尔兰		CHE	瑞士
ITA	意大利		UKM	英国
ISR	以色列		USA	美国

问题

请依据本文与图表分析日本的教育现况。

并从不同观点思考本问题，并讲述自己所支持看法的理由。

**受検番号**

准考证号码

平成 23 年度（2011 年度）第 5 学年 4 月編入学選抜検査

2011 年度五年级四月份插班入学考试

外国語作文（中国語） 解答用紙／ 外语作文（中文）

This section contains a large rectangular area with horizontal dashed lines, intended for writing the answer. The lines are evenly spaced and extend across the width of the page, providing a guide for the student's handwriting.



A blank sheet of lined paper with a solid black border and horizontal ruling lines.